

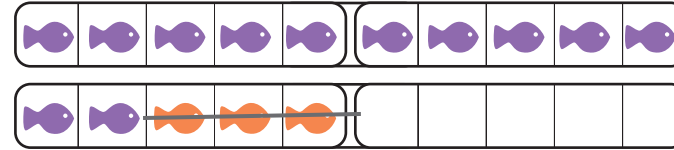
# חבור וחסור עד 20 - חלק א

העזרו בציוורים ופתרו. 

$$5 - 3 = \underline{\quad}$$



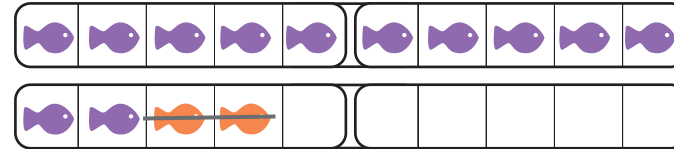
$$15 - 3 = \underline{\quad}$$



$$4 - 2 = \underline{\quad}$$



$$14 - 2 = \underline{\quad}$$

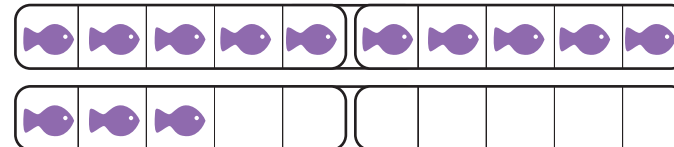


סמנו דגים לפי התרגיל.

$$3 - 1 = \underline{\quad}$$



$$13 - 1 = \underline{\quad}$$



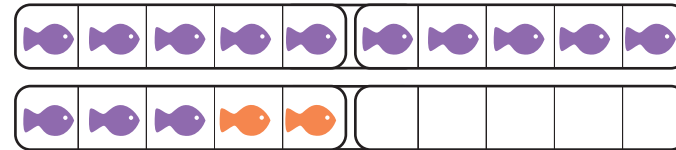
# חבור וחסור עד 20 - חלק א

העזרו בציורים והשלימו.

$$3 + 2 = \underline{\quad}$$



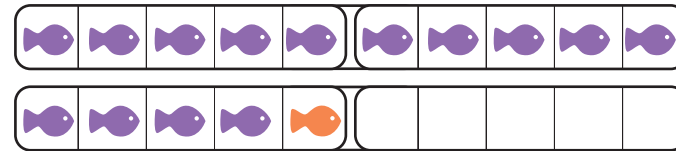
$$13 + 2 = \underline{\quad}$$



$$4 + 1 = \underline{\quad}$$



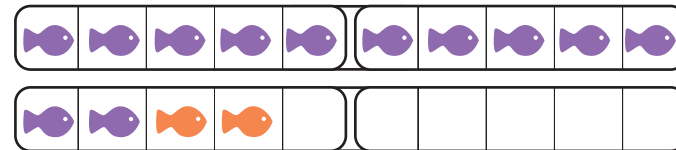
$$14 + 1 = \underline{\quad}$$



$$2 + 2 = \underline{\quad}$$




$$\underline{\quad} + \underline{\quad} = \underline{\quad}$$



# חבור וחסור עד 20 - חלק א

צירו את הכובעים החסרים והשלימו את התרגילים.

$$13 + \underline{\quad} = 15$$



$$11 + \underline{\quad} = 15$$




$$\underline{\quad} + \underline{\quad} = 15$$



$$\underline{\quad} + \underline{\quad} = 15$$




$$\underline{\quad} + \underline{\quad} = 15$$



# חבור וחסור עד 20 - חלק א


$$11 + \underline{\quad} = 13$$



$$12 + \underline{\quad} = \underline{\quad}$$




$$10 + \underline{\quad} = \underline{\quad}$$




$$11 + \underline{\quad} = \underline{\quad}$$



$$\underline{\quad} + \underline{\quad} = \underline{\quad}$$



# חבור וחסור עד 20 - חלק א

העזרו ב"ציור בקצור" ופתרו. 

$4 - 3 = \underline{\quad}$



$14 - 3 = \underline{\quad}$



$14 - 13 = \underline{\quad}$



$3 - 2 = \underline{\quad}$



$13 - 12 = \underline{\quad}$



$13 - 2 = \underline{\quad}$



$2 - 1 = \underline{\quad}$



$12 - 11 = \underline{\quad}$



$12 - 1 = \underline{\quad}$



סמנו פסים ודסקיות  
לפי התרגילים.






# חבור וחסור עד 20 - חלק א

העזרו ב"ציור בקצור" ופתרו. 

$15 - 3 = \underline{\quad}$

$15 - 13 = \underline{\quad}$

  
   
 $15 - 1 = \underline{\quad}$

  
 $15 - 11 = \underline{\quad}$

$15 - 14 = \underline{\quad}$

$15 - 4 = \underline{\quad}$

$15 - 12 = \underline{\quad}$


$15 - 2 = \underline{\quad}$



# חבור וחסור עד 20 - חלק א

מחקו ספריות לפי התרגיל ופתרו. 

$3 - 2 = \underline{\quad}$



$4 - 3 = \underline{\quad}$



$5 - 3 = \underline{\quad}$



$13 - 2 = \underline{\quad}$



$14 - 13 = \underline{\quad}$



$15 - 3 = \underline{\quad}$



$13 - 12 = \underline{\quad}$



$14 - 3 = \underline{\quad}$



$15 - 13 = \underline{\quad}$



# חיבור וחסור עד 20 - חלק א

פתרו: 



○○○○	

$14 - 2 = \underline{\quad}$        $14 - 4 = \underline{\quad}$

$14 - 14 = \underline{\quad}$        $14 - 12 = \underline{\quad}$

$14 - 11 = \underline{\quad}$        $14 - 3 = \underline{\quad}$

○○	

$12 - 2 = \underline{\quad}$        $12 - 1 = \underline{\quad}$

$12 - 11 = \underline{\quad}$        $12 - 0 = \underline{\quad}$

$12 - 10 = \underline{\quad}$        $12 - 12 = \underline{\quad}$

○○○	

$13 - 1 = \underline{\quad}$        $13 - 2 = \underline{\quad}$

$13 - 10 = \underline{\quad}$        $13 - 11 = \underline{\quad}$

$13 - 12 = \underline{\quad}$        $13 - 3 = \underline{\quad}$


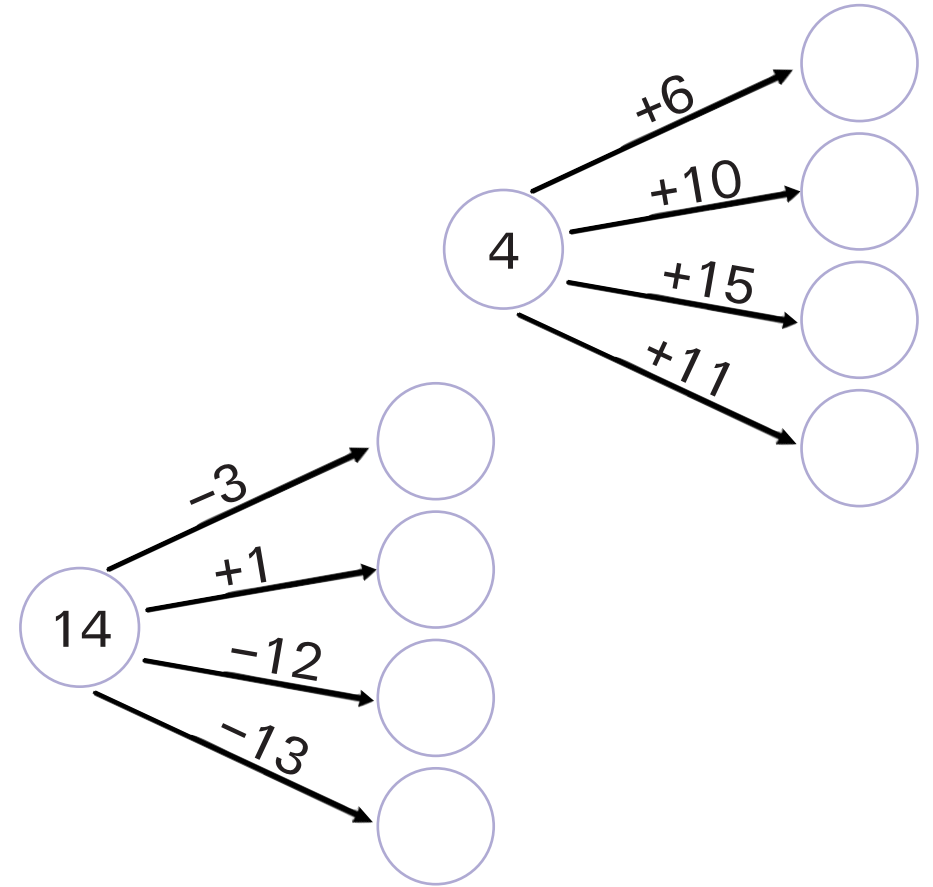
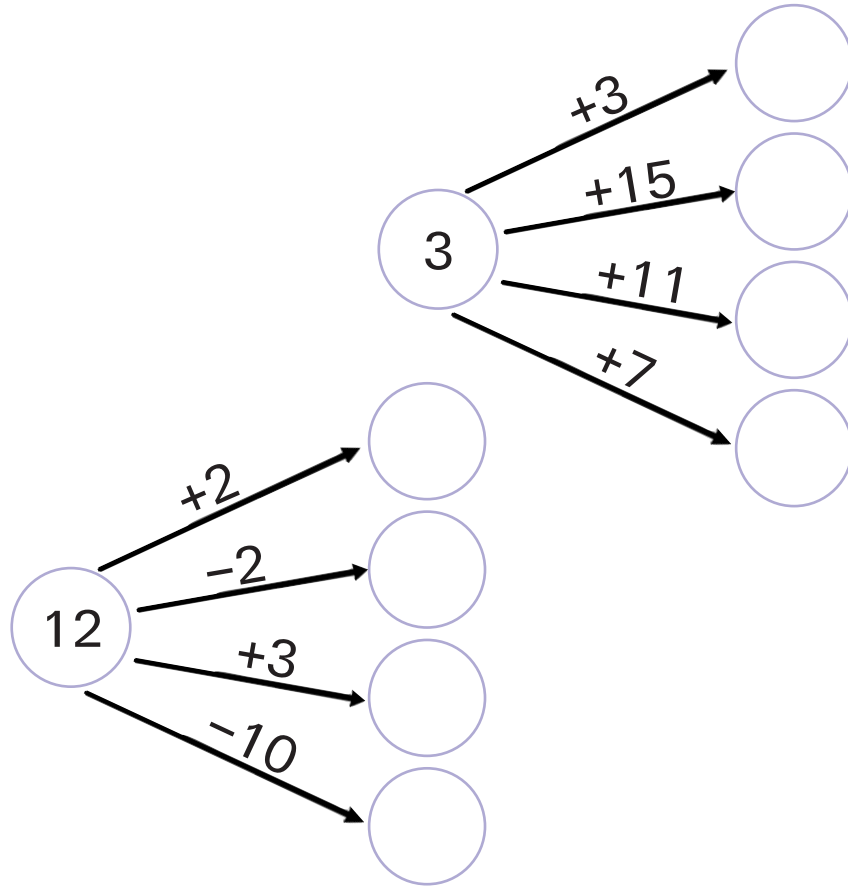

$15 - 10 = \underline{\quad}$        $15 - 11 = \underline{\quad}$

$15 - 1 = \underline{\quad}$        $15 - 13 = \underline{\quad}$

$15 - 4 = \underline{\quad}$        $15 - 2 = \underline{\quad}$










# חבור וחיסור עד 20 - חלק א

השלימו: 



# חבור וחסור עד 20 - חלק א

לכל ילד יש שתי אריזות של בבות. כמה בבות יש באריזה הסגורה? הנשלימו. 

כל הבבות יחד	שתי האריזות		
<p>14 בבות</p> $10 + \underline{\quad} = 14$			
<p>15 בבות</p> $3 + \underline{\quad} = 15$			
<p>13 בבות</p> $2 + \underline{\quad} = 13$			

# חבור וחסור עד 20 - חלק א

כמה שקלים חסרים? הוסיפו מטבעות של **10 שקלים** ושל **1 שקל** והשלימו את התרגילים.

$2 + \underline{\quad} = 13$

$3 + \underline{\quad} = 15$

$2 + \underline{\quad} = 14$

$12 + \underline{\quad} = 15$

$11 + \underline{\quad} = 14$

$3 + \underline{\quad} = 14$

$2 + \underline{\quad} = 15$

# חבור וחסור עד 20 - חלק א

בכובעים משתמשים בצמוד וצמוד הבא.

משתמשים בכל הכסף וקונים שני כובעים. אילו כובעים קונים? כמה משלמים? גזרו את הכובעים, הדביקו אותם והשלימו.

  <b>11</b> שקלים	 <b>11</b> שקלים	 <b>11</b> שקלים
 <b>2</b> שקלים	 <b>2</b> שקלים	 <b>2</b> שקלים
 <b>13</b> שקלים	 <b>4</b> שקלים	 <b>12</b> שקלים
 <b>3</b> שקלים	 <b>3</b> שקלים	 <b>12</b> שקלים

10 שקלים    1 שקל    1 שקל    1 שקל

שקלים \_\_\_\_\_ פְּמָה \_\_\_\_\_ + \_\_\_\_\_ = \_\_\_\_\_

10 שקלים    1 שקל    1 שקל    1 שקל    1 שקל

שקלים \_\_\_\_\_ פְּמָה \_\_\_\_\_ + \_\_\_\_\_ = \_\_\_\_\_

10 שקלים    1 שקל    1 שקל    1 שקל    1 שקל

שקלים \_\_\_\_\_ פְּמָה \_\_\_\_\_ + \_\_\_\_\_ = \_\_\_\_\_

# חבור וחסור עד 20 - חלק א



שקלים \_\_\_\_\_ כָּמָה \_\_\_\_\_ + \_\_\_\_\_ = \_\_\_\_\_

---



שקלים \_\_\_\_\_ כָּמָה \_\_\_\_\_ + \_\_\_\_\_ = \_\_\_\_\_

---



שקלים \_\_\_\_\_ כָּמָה \_\_\_\_\_ + \_\_\_\_\_ = \_\_\_\_\_