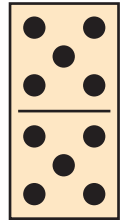
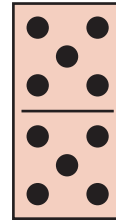
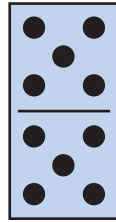
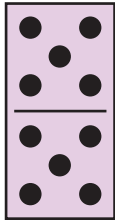

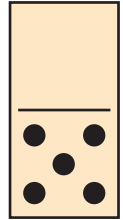

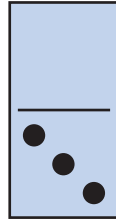
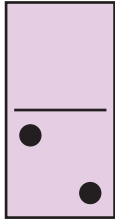
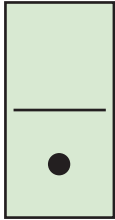
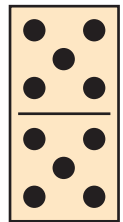
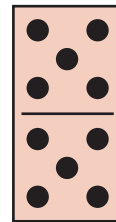
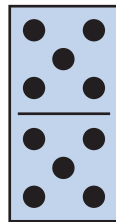
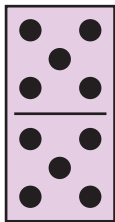

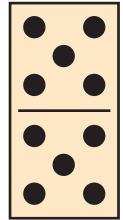
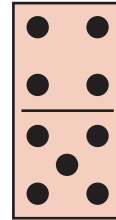
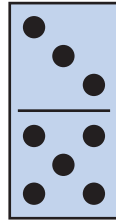
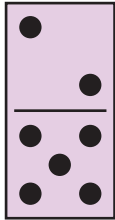



המספרים עד 20 - הכרה ומבנה

כתבו מספרים מתאימים. 





המספרים עד 20 - הכרה ומבנה



השלימו את המספר הבא (השכני הגדול): 

12, _____

14, _____

10, _____

18, _____

16, _____

19, _____

השלימו את המספר הקודם (השכני הקטן): 

_____, 14

_____, 12

_____, 16

_____, 11

_____, 18

_____, 19

השלימו מספרים ברצף. 

8, 9, 10, _____, _____, _____, _____

_____, 15, _____, _____, 19, _____

כמה ספריות יהיו בכל שקית אם נוסיף לה ספריה אחת? כתבו תרגיל מתאים ופתרו.

12 + 1 = 13
תרגיל

תרגיל

תרגיל

תרגיל

תרגיל

תרגיל

המספרים עד 20 - הכרה ומבנה

כמה ספריות יהיו בכל שקית אם נוציא ממנה ספריה אחת? כתבו תרגיל מתאים ופתרו.

15 ספריות

$$15 - 1 = 14$$

תרגיל

19 ספריות

תרגיל

11 ספריות

תרגיל

20 ספריות

תרגיל

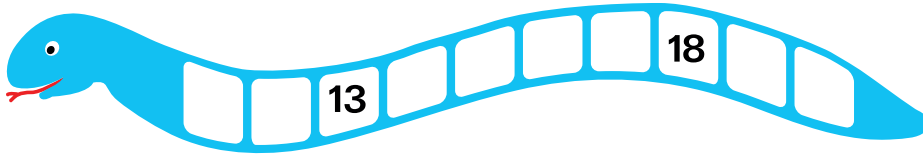
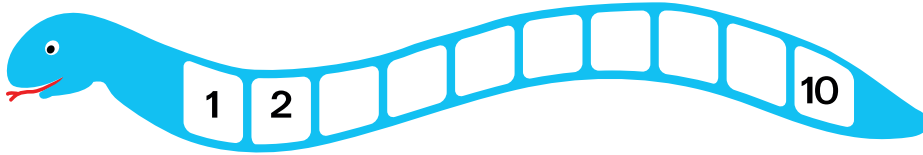
18 ספריות

תרגיל

16 ספריות

תרגיל

השלימו מספרים בראף. 



פתרו. 

$13 - 1 = \underline{\quad}$

$20 - 1 = \underline{\quad}$

$14 - 1 = \underline{\quad}$

$17 - 1 = \underline{\quad}$

$16 - 1 = \underline{\quad}$

$19 - 1 = \underline{\quad}$

פתרו. 

$12 - \underline{\quad} = 11$

$18 - \underline{\quad} = 17$

$15 - \underline{\quad} = 14$

$15 + \underline{\quad} = 16$

$10 + \underline{\quad} = 11$

$13 + \underline{\quad} = 14$

$\underline{\quad} + 1 = 12$

$\underline{\quad} + 1 = 18$

$\underline{\quad} + 1 = 19$

$\underline{\quad} - 1 = 10$

$\underline{\quad} - 1 = 13$

$\underline{\quad} - 1 = 12$