


העזרו בציורים ופתרו: (אפשר למחוק בקו את הפרחים המסומנים) 

דגמה



$$18 - 13 = \underline{5}$$



$$17 - 5 = \underline{\quad}$$



$$19 - 5 = \underline{\quad}$$



$$16 - 5 = \underline{\quad}$$






$$17 - 12 = \underline{\quad}$$






$$19 - 14 = \underline{\quad}$$




העזרו בציורים ופתרו. 




$14 + 5 = \underline{\quad}$




$5 + 12 = \underline{\quad}$


$5 + 13 = \underline{\quad}$

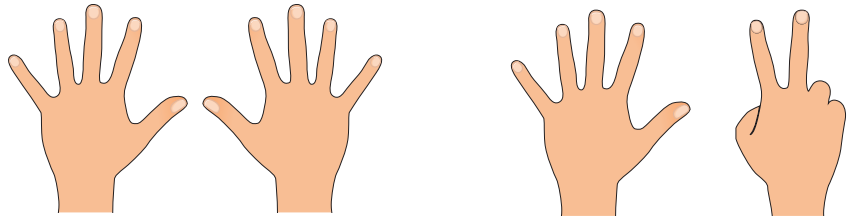
	
	
	

$11 + 5 = \underline{\quad}$

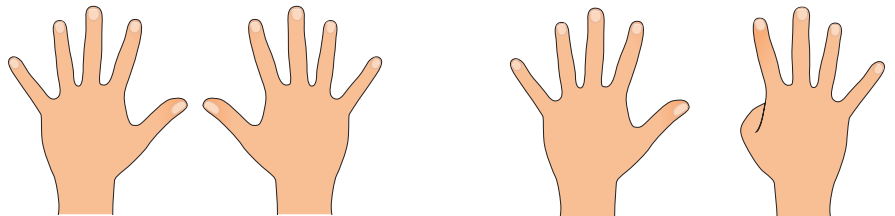
	
	
	

$5 + 15 = \underline{\quad}$

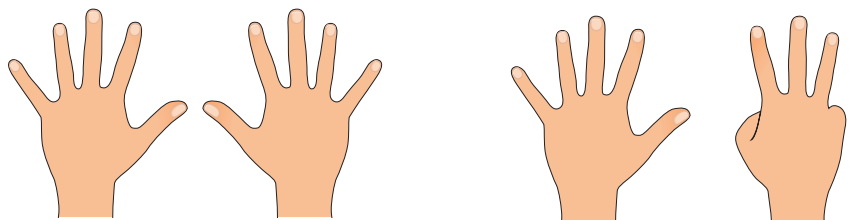
כמה אצבעות צריך לקפיל? מחקו אצבעות בקו והשלימו. 



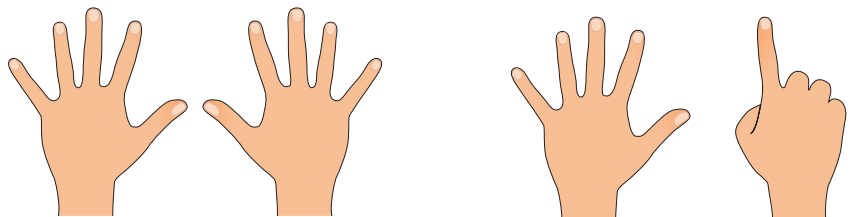
$$17 - \underline{\quad} = 12$$



$$19 - \underline{\quad} = 5$$



$$18 - \underline{\quad} = 5$$



$$16 - \underline{\quad} = 11$$

הוסיפו מטבעות לפי התרגיל ופתרו. 

דגמה



10

2

$$5 + \underline{12} = \underline{17}$$



$$5 + \underline{\quad} = 7$$



$$5 + \underline{\quad} = 17$$



$$5 + \underline{\quad} = 6$$



$$5 + \underline{\quad} = 16$$



$$5 + \underline{\quad} = 8$$



$$5 + \underline{\quad} = 18$$



$$5 + \underline{\quad} = 9$$



$$5 + \underline{\quad} = 19$$